



大埔鄉郊發展研究

1.0 版

目標

1. 通過考察林錦公路田寮下一帶的農業用地，了解農業的特徵及農民可能面對的問題。
2. 通過對林村許願樹的考察，了解旅遊業對林村帶來的機遇和挑戰，並探討可持續旅遊的重要。

設備

項目	數量	已檢查
1. 農業種類及林村考察點資料圖片（每組一份）	x1	<input type="checkbox"/>
2. 單板夾	x1	<input type="checkbox"/>
3. 指南針	x1	<input type="checkbox"/>
4. 地圖（圖一及圖二）	x1	<input type="checkbox"/>

相關地理概念

鄉郊用地 園藝農業 棄耕地 休耕地 聚落 帶狀聚落 核心聚落
風水林 康樂消閒 可持續發展 綠色旅遊 文化保育

戶外考察

考察點一：大埔林錦公路田寮下

考察步驟：

1. 乘車往大埔林錦公路田寮下。
2. 根據導師的安排，同學按組別依照考察路線行走。
3. 沿途細心觀察田寮下的農業用地，並完成〈資料記錄表一〉內的各項目。

考察點二：大埔林村許願樹

考察步驟：

1. 乘車從林錦公路田寮下到大埔林村許願樹。
2. 四至六人一組，根據分配的路線考察每一個考察點，並完成〈資料記錄表二〉內的各項目。

資料記錄表一

考察點一：大埔林錦公路田寮下

考察活動：透過觀察田寮下的農業用地，選擇（圈出）以下合適的描述。

表一：農業系統（可多於一個選擇）

甲·自然投入	描述
1. 地形	平坦／陡峭
2. 水源	河流／水井／灑水器／其他_____
3. 泥土	肥沃／瘦瘠


乙·人文投入	描述
1. 農夫數量和特徵	<ul style="list-style-type: none"> • 數量：1-3／4-6／7或以上 • 性別：男／女 • 年齡：15-30／31-60／61或以上
2. 機器或所採用的農業科技	<ul style="list-style-type: none"> • 數量：多／少／沒有 • 水平：高／低／不適用 描述：_____
3. 肥料或殺蟲劑	有／沒有／未能作答 描述：_____
4. 政府的技術支援或資金	有／沒有／未能作答
5. 市場	本地／海外／未能作答 描述：_____

丙·農業工序	描述
1.	
2.	
3.	

丁·農業產出	用途
1. 羅列你能辨析的類別：	自用／銷售 描述：_____
2. 選一塊有農作物的農田，試計算該農田產品在市場上的價值	_____

表二：田寮下的四周環境

在下面空框內繪畫出田寮下的聚落及附近林地的情況。



這種聚落分佈形式稱為 _____ ；林地稱為 _____ 。

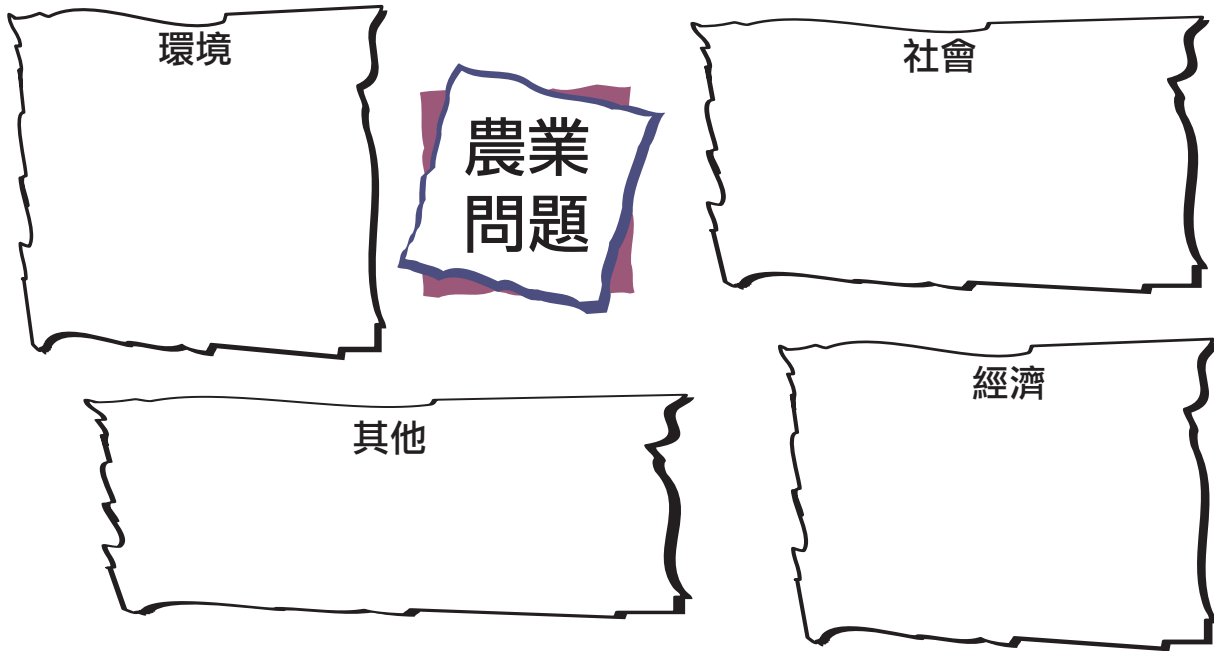
問題探究

1. 寫出風水林的三個功用。

- (a) _____
- (b) _____
- (c) _____

2. 描述田寮下一帶的農業特徵。

3. 經過考察田寮下一帶的農業特徵，農民可能會面對什麼問題？



4. 針對以上問題，建議一些可行的解決辦法。

資料記錄表二

考察點二：大埔林村，許願樹

考察活動：按導師帶領，尋找及考察以下地標，並解答下列問題。

- | | | |
|-----------|--------------|--------------|
| 1. 林村許願廣場 | 2. 許願樹（近天后廟） | 3. 許願樹及寶牒祈福牌 |
| 4. 天后廟 | 5. 人造許願樹 | |

問題探究

1. 這裡共有多少棵許願樹？試寫出六位數字格網座標以顯示其位置。

2. 寫出天后廟的六位數字格網座標： _____

3. 在天后廟向東南偏南方向，在放馬莆兒童遊樂場內，有一棵列入香港古樹名冊內的古樹。

請寫出該古樹的名稱： _____


4. 除了天后廟外，這裡還有什麼人工的建設吸引遊客？

5. 這些建設除了吸引遊人之外，還有些什麼功用？


6. 每逢假日，這裡特別多遊人遊覽。假如你是以下其中一個角色，你喜歡這些遊人到來嗎？為什麼？




賣香燭的婆婆



新搬來放馬莆村居住的外國人

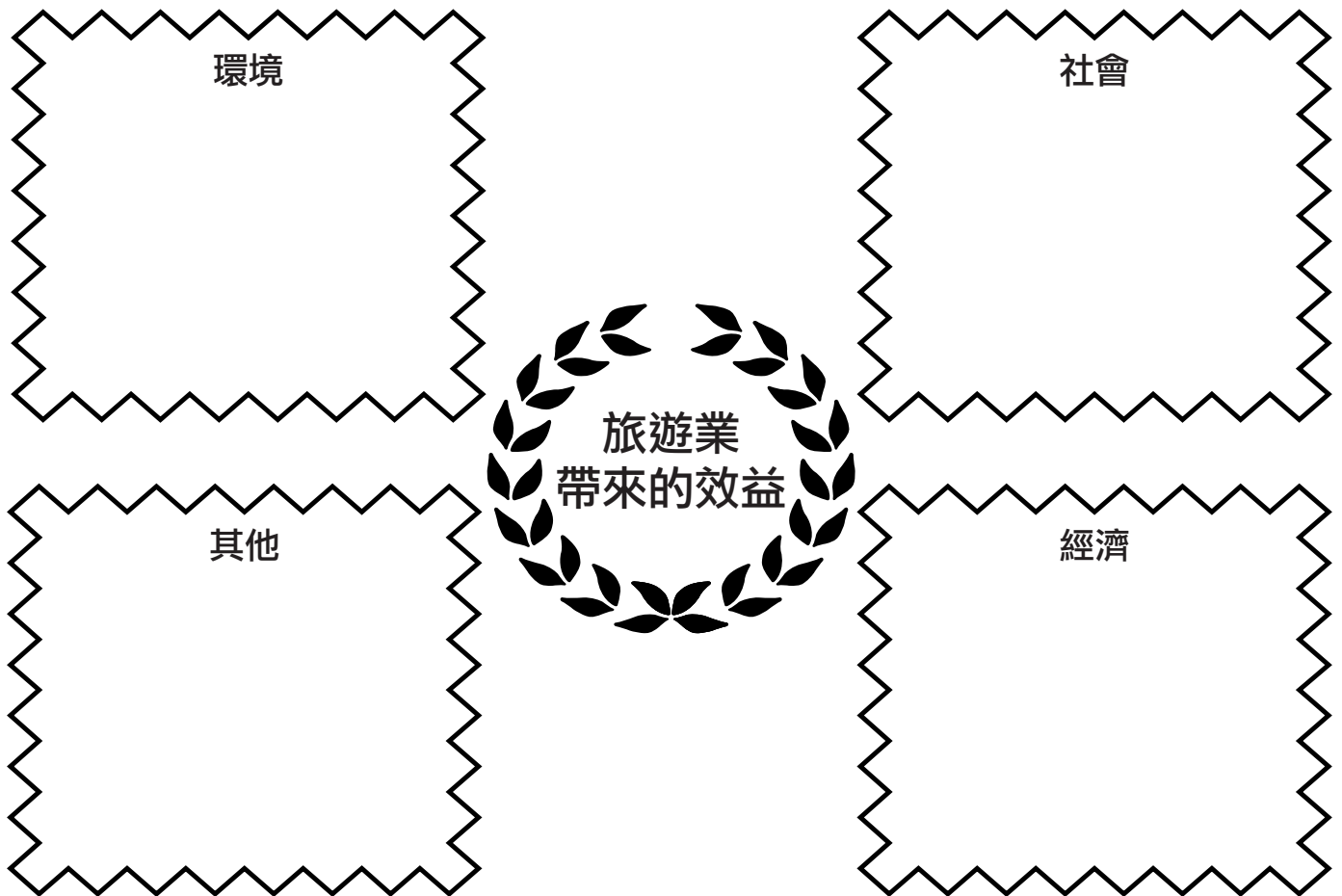


老榕樹



放馬莆村的餐廳老闆

7. 旅遊業為林村帶來什麼的效益?



8. 旅遊業為林村帶來什麼的問題?

9. 如何解決上題所述的問題?

